

בוּחַן לְכִיתָה א'

ציון _____

שם _____

1. המחישו והשלימו

קחו 3 כדורים, הורידו 1. ביחד זה _____

קחו 2 ריבועים, הורידו 5. ביחד זה _____

קחו 4 כדורים, הורידו 3. ביחד זה _____

קחו 9 ריבועים, הורידו 9, הוסיפו 3. ביחד זה _____

קחו 8 כדורים, הורידו 2, הוסיפו 1. ביחד זה _____

2. תרגילי חיסור

$$\underline{\quad\quad} - \underline{\quad\quad} = \underline{\quad 5 \quad}$$

$$\underline{7} - \underline{2} = \underline{\quad\quad}$$

$$\underline{9} - \underline{\quad\quad} = \underline{\quad 4 \quad}$$

$$\underline{\quad\quad} - \underline{0} = \underline{\quad 10 \quad}$$

$$\underline{4} - \underline{3} = \underline{\quad\quad}$$

$$\underline{8} - \underline{\quad\quad} = \underline{\quad 3 \quad}$$

$$\underline{2} - \underline{\quad\quad} = \underline{\quad 0 \quad}$$

$$\underline{6} - \underline{3} = \underline{\quad\quad}$$



3. תרגילי חיבור וחיסור

$$\underline{6} - \underline{3} - \underline{3} = \underline{\quad}$$

$$\underline{8} + \underline{1} - \underline{5} = \underline{\quad}$$

$$\underline{5} - \underline{4} + \underline{5} = \underline{\quad}$$

$$\underline{7} - \underline{6} + \underline{3} = \underline{\quad}$$

4. המחישו ופיתרו

$$\underline{5} - \underline{2} = \underline{\quad}$$

קחו 5 והורידו 2

$$\underline{8} - \underline{1} = \underline{\quad}$$

קחו 8 והורידו 1

$$\underline{9} - \underline{0} = \underline{\quad}$$

קחו 9 והורידו 0

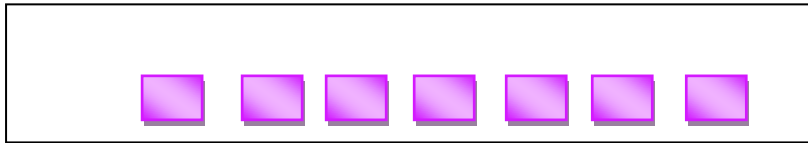
$$\underline{3} - \underline{3} = \underline{\quad}$$

קחו 3 והורידו 3

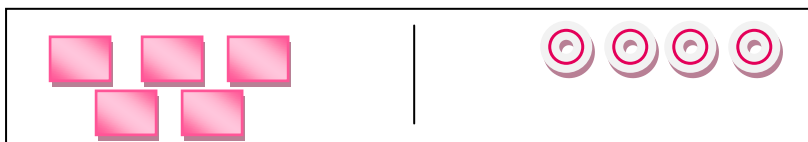
$$\underline{6} - \underline{3} = \underline{\quad}$$

קחו 6 והורידו 3

5. כתבו תרגיל מתאים ומחקו בהתאם לתרגיל

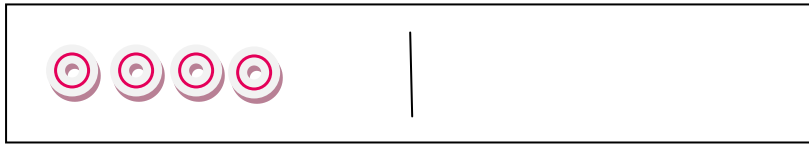


$$\underline{4} - \underline{3} = \underline{\quad}$$



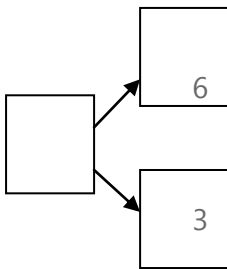
$$\underline{5} - \underline{\quad} = \underline{\quad}$$





$$\underline{\quad 4 \quad} - \underline{\hspace{2cm}} = \underline{\hspace{1cm}}$$

6. השלימו את שלושת המספרים 3, 6, 9



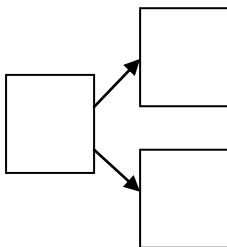
$$\underline{\quad 9 \quad} - \underline{\quad 3 \quad} = \underline{\hspace{2cm}}$$

$$\underline{\hspace{1cm}} + \underline{\hspace{1cm}} = \underline{\hspace{2cm}}$$

$$\underline{\hspace{1cm}} - \underline{\hspace{1cm}} = \underline{\hspace{2cm}}$$

$$\underline{\hspace{1cm}} + \underline{\hspace{1cm}} = \underline{\hspace{2cm}}$$

2, 3, 5



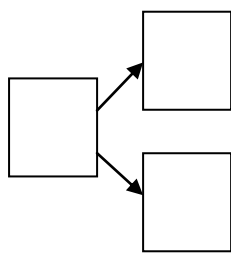
$$\underline{\quad} - \underline{\quad} = \underline{\quad}$$

$$\underline{\quad} + \underline{\quad} = \underline{\quad}$$

$$\underline{\quad} - \underline{\quad} = \underline{\quad}$$

$$\underline{\quad} + \underline{\quad} = \underline{\quad}$$

3, 7, 10



$$\underline{\quad} - \underline{\quad} = \underline{\quad}$$

$$\underline{\quad} + \underline{\quad} = \underline{\quad}$$

$$\underline{\quad} - \underline{\quad} = \underline{\quad}$$

$$\underline{\quad} + \underline{\quad} = \underline{\quad}$$

7. השלימו ופיתרו. השתמשו בסרגל כלים.

א. עמוד עם הסמן על מספר 3. צעדו 3 צעדים שמאלה.

צעדו 2 צעדים ימינה.

$$3 - 3 + 2 = \underline{\quad}$$

הגעתם למספר

ב. עמוד עם הסמן על מספר 2.

צעדו 3 צעדים ימינה, צעדו 3 צעדים שמאלה

$$2 + 3 - 3 = \underline{\quad}$$

הגעתם למספר

ג. עמוד עם הסמן על מספר 8

צעדו 1 צעדים ימינה, צעדו 7 צעדים שמאלה



$$8 + 1 - 7 = \underline{\quad}$$

הגעתם למספר _____

9. השלימו את התרגילים (+) או (-)

$$4 \underline{\quad} 4 \underline{\quad} 2 = 2$$

$$4 \underline{\quad} 4 \underline{\quad} 2 = 10$$

$$4 \underline{\quad} 4 \underline{\quad} 2 = 6$$

$$3 \underline{\quad} 1 \underline{\quad} 4 = 6$$

$$3 \underline{\quad} 1 \underline{\quad} 4 = 0$$

